

ТЕСТ по ПДД

Вопрос №1

Какой из знаков запрещает движение велосипедистов??




1.



2.



3.



4.

- 1. 2,4
- 2. 2,3
- 3. 2,3,4

Вопрос №2

Укажите номер картинки с изображением пешехода?



1.



2.



3.

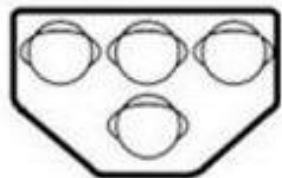
1. 3

2. 1

3. 2

Вопрос №3

На рисунках изображены светофоры. Какой из них предназначен для регулирования движения пешеходов?



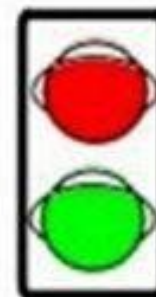
1.



2.



3.



4.

1. 1,3

2. 4

3. 2

Вопрос №4

Укажите аксессуары , которыми обязательно должен быть оборудован велосипед?



1. Бортовой компьютер
2. Звонок
3. Передняя и задняя фары
4. Зеркало

Вопрос №5

Выбери правильный вариант



А



Б



В



Г

1. Место остановки автобуса/троллейбуса
2. Пешеходная дорожка
3. Дети
4. Пешеходный переход

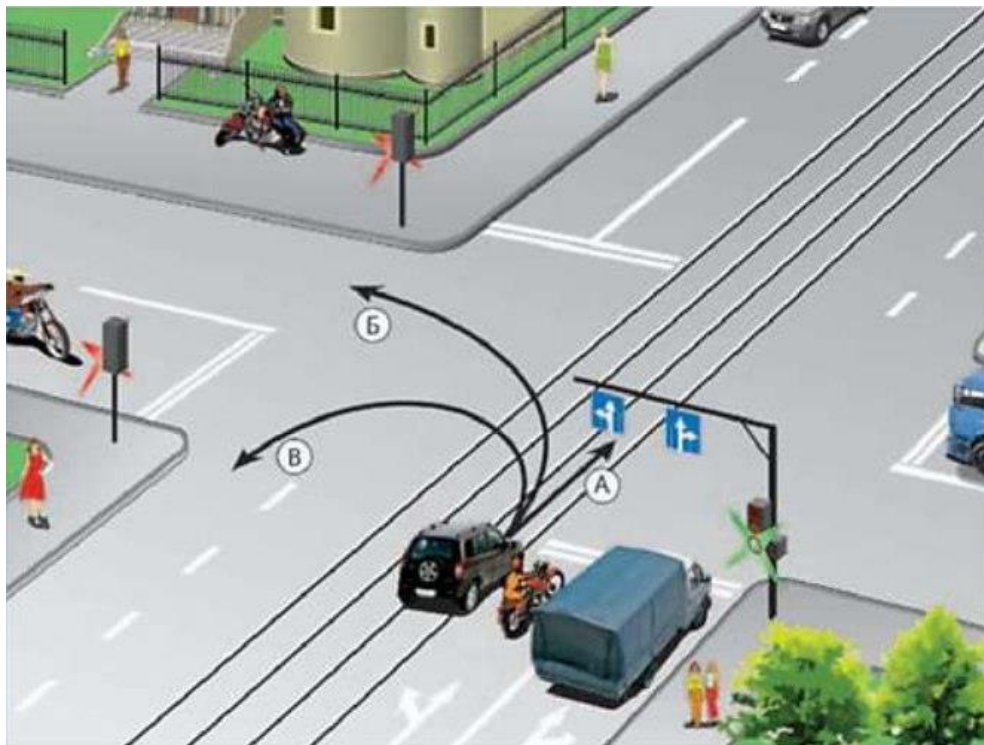
1. 1-Б, 2-Г, 3-В, 4-Г

2. 1-Б, 2-Г, 3-А, 4-В

3. 3. 1-Б, 2-В, 3-А, 4-Г

Вопрос №6

В каком направлении разрешено продолжить движение автомобилю??



1. Только Б
2. Б и В
3. А, Б, В

Вопрос №7

Кто проедет перекресток первым??



1. Водитель красного автомобиля
2. Водитель белого автомобиля

Вопрос №8

Должны ли вы уступить дорогу грузовику?



1. Да
2. Нет
3. На свое усмотрение

Вопрос №9

Кто должен уступить дорогу в показанной ситуации??



1. Водители синего и зеленого автомобиля
2. Водители белого и красного автомобиля

Вопрос №10

В каких направлениях разрешено водителю продолжить движение?



1. А,Б
2. Только Б
3. В всех

Вопрос №11

При таком сигнале регулировщика разрешено ли пешеходу перейти дорогу??



1. Да
2. Нет

Вопрос №12

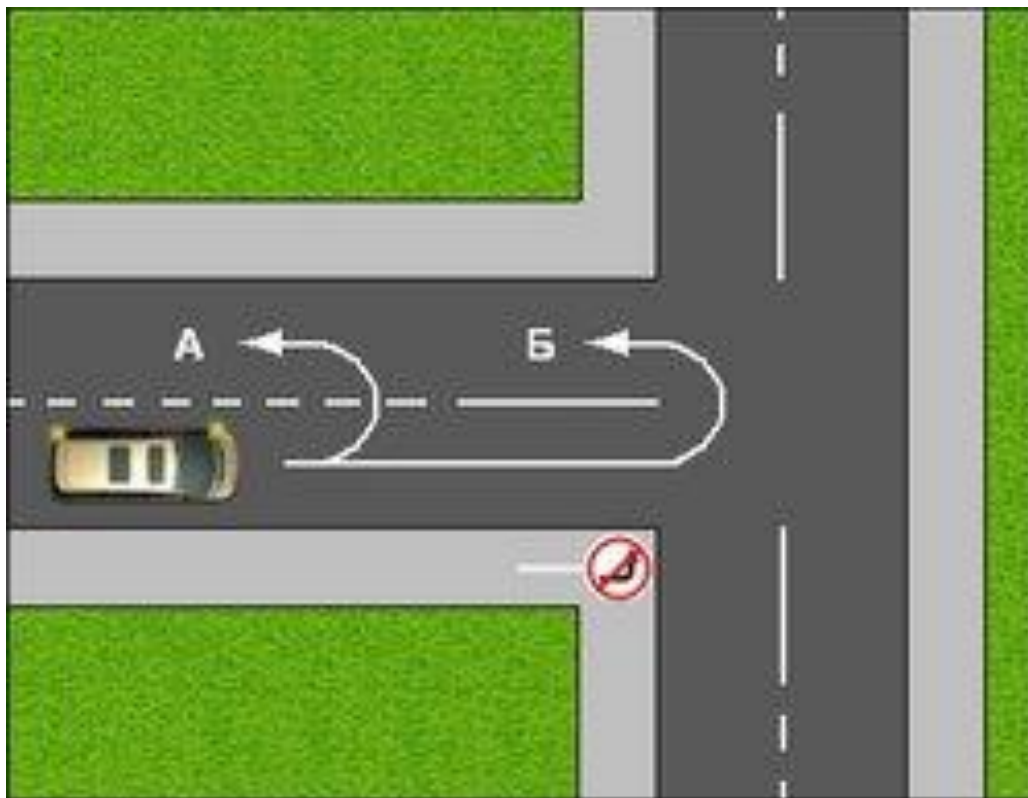
Определите очередность проезда перекрестка?



1. Синий автомобиль, велосипед, коричневый автомобиль
2. Велосипедист, коричневый автомобиль, синий автомобиль
3. Коричневый автомобиль, синий автомобиль, велосипел

Вопрос №13

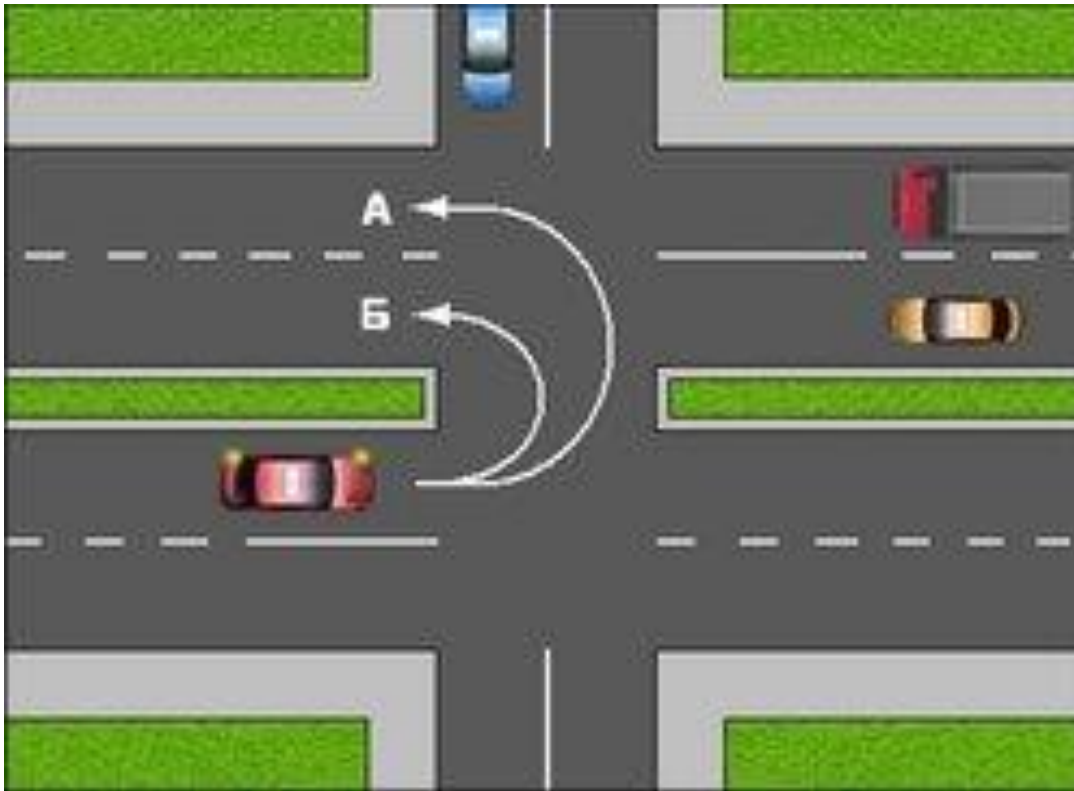
По какой траектории можно совершить разворот?



1. А
2. Б
3. По любой

Вопрос №14

По какой траектории можно совершить поворот?



1. А
2. Б
3. По любой

Вопрос №15

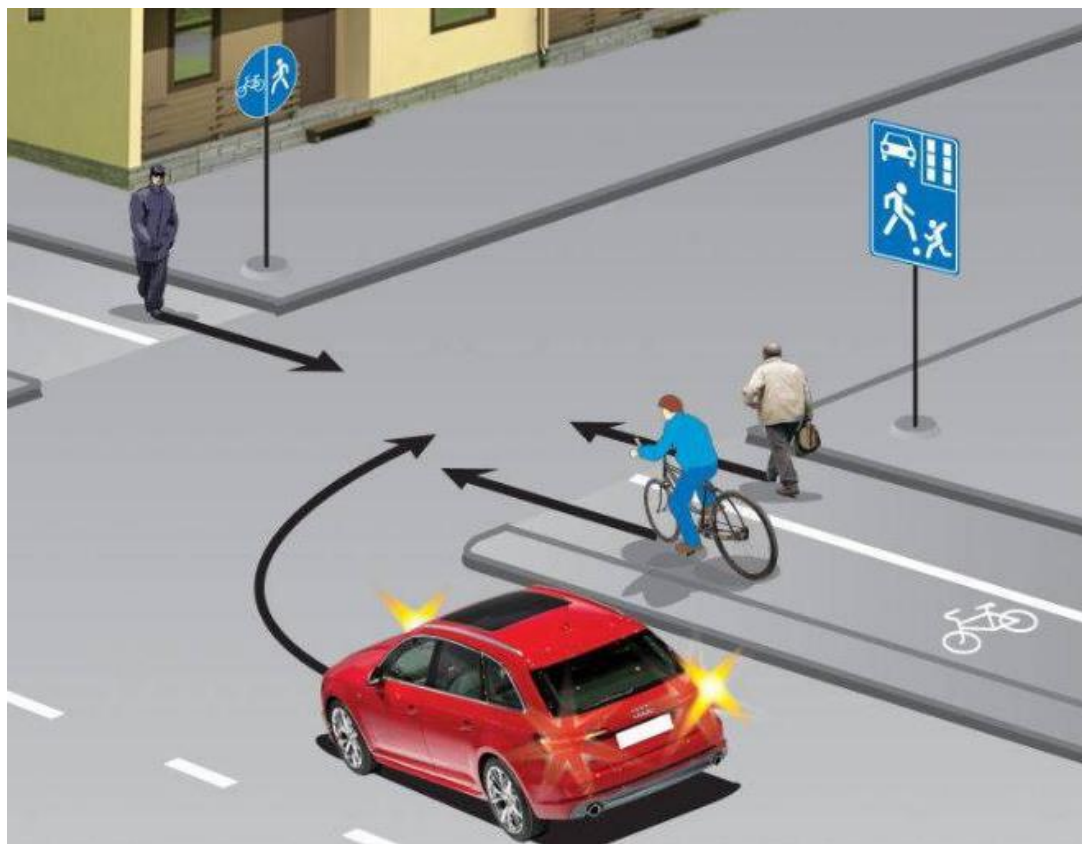
Кому должен уступить дорогу красный автомобиль?



1. Никому
2. Пешеходам
3. Пешеходам и автомобилю

Вопрос №16

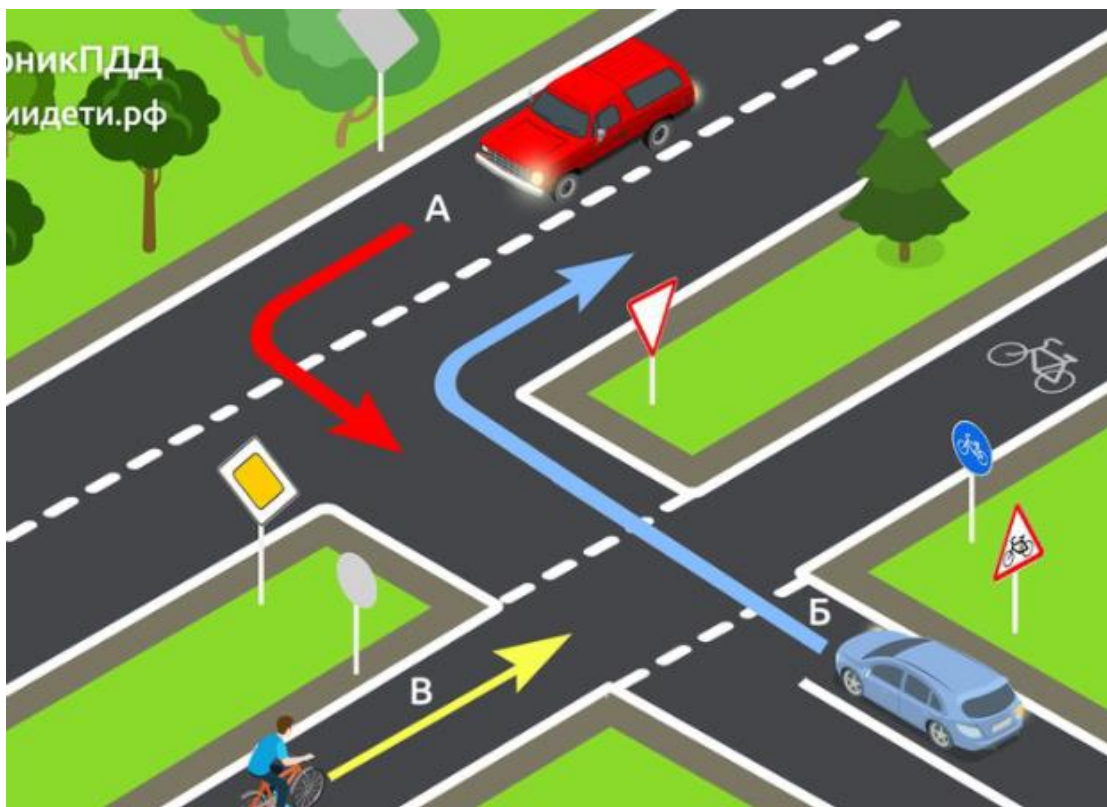
Кто должен уступить дорогу в показанной ситуации??



1. **Велосипедист**
2. **Автомобиль**
3. **Пешеход**

Вопрос №17


Кто проедет перекресток первым?



1. В
2. А и Б
3. Б

Вопрос №18

Кто должен уступить дорогу в показанной ситуации??



1. Водитель автомобиля
2. Велосипедист
3. Тот, кто знает правила

Вопрос №19

Кто должен уступить дорогу в показанной ситуации??



1. Тот, кто просигналит громче
2. Велосипедист
3. Водитель автомобиля

Вопрос №20

Имеет ли право велосипедист перевозить пассажира в возрасте 9 лет?

1. Да

2. Да, но на дополнительном сиденье

3. Нет

Вопрос №21

Как следует действовать велосипедисту на пешеходном переходе??

- 1. Переехать дорогу на зеленый свет**
- 2. Никак, он просто не может оказаться на пешеходном переходе**
- 3. Слезть с велосипеда и перейти дорогу**

Вопрос №22

Имеет ли право велосипедист передвигаться по городу в условиях снегопада??

1. Да на зимней резине
2. Нет
3. Это решать ему

Вопрос №23

Можно ли велосипедисту в показанной ситуации повернуть налево??



1. Да
2. Нет
3. По желанию

Вопрос №24

Должен ли велосипед быть оснащен звуковым сигналом?

1. Пожеланию водителя

2. Нет

3. Да

Вопрос №25

Что это за знак?



1. Движение велосипедов запрещено
2. Пересечение с велосипедной дорожкой
3. Велосипедная дорожка для красных велосипедов

Вопрос №26

Можно ли управлять велосипедом, не держа ноги на педалях??

1. Да

2. Нет

3. Только при перемещении по велосипедной дорожке

Вопрос №27

Разрешается ли велосипедистам перемещаться по автомагистралям??

1. Нет

2. Разрешается, при условии, что велосипедист будет вести велосипед рядом с собой

3. Да